

Nama :

Nomor :



**PEMERINTAH KABUPATEN GUNUNGKIDUL
DINAS PENDIDIKAN PEMUDA DAN OLAHRAGA
SDN KRAMBILSAWIT SAPTOSARI**

**PENILAIAN AKHIR SEMESTER GANJIL
TAHUN PELAJARAN 2020/2021**

TEMA : 1

HARI/TANGGAL : Selasa, 1 Desember 2020

KELAS : V (LIMA)

WAKTU : 07.30 – 09.30

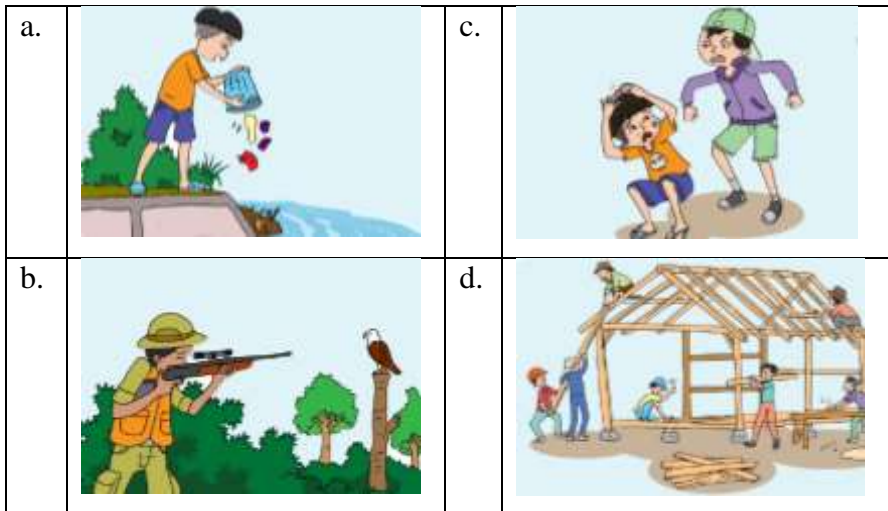
PPKn

3.1 Mengidentifikasi nilai-nilai Pancasila dalam kehidupan sehari-hari

1. Saling menghormati dan bekerja sama antar pemeluk agama merupakan sikap/perilaku yang sesuai dengan sila ke-... Pancasila.

- a. Satu
- b. Dua
- c. Tiga
- d. Empat

2. Perilaku yang sesuai dengan nilai-nilai Pancasila ditunjukkan oleh ...



3. Perilaku yang *tidak* sesuai dengan nilai-nilai lambang sila Pancasila di samping yaitu ...

- a. Saling menghormati antarpemeluk agama yang berbeda-beda
- b. Rela berkorban demi bangsa dan negara
- c. Gemar melakukan kegiatan kemanusiaan
- d. Tidak pernah melaksanakan ibadah sesuai dengan agama/kepercayaan yang dianut

4. Perilaku yang **tidak** sesuai dengan nilai-nilai Pancasila di masyarakat yaitu ...
- Tidak mau mengikuti kegiatan kerja bakti, ronda, dan rapat lingkungan
 - Tidak mau meminjamkan peralatan sekolah kepada teman sekelas.
 - Tidak mau mengikuti upacara bendera di sekolah
 - Berkelahi di sekolah



5. Gambar di samping mencerminkan perilaku/sikap yang sesuai dengan nilai sila ke- Pancasila



6. Gambar di samping (menolong korban bencana alam) mencerminkan perilaku/sikap yang sesuai dengan nilai sila ke- Pancasila

7. Sebutkan 3 perilaku/sikap yang sesuai dengan nilai sila pertama Pancasila !

.....

.....


.....

IPA

3.1 Menjelaskan alat gerak dan fungsinya pada hewan dan manusia serta cara memelihara kesehatan alat gerak manusia.



8. Hewan tersebut bergerak dengan organ
- Tulang punggung
 - Sirip
 - Sayap
 - Ekor



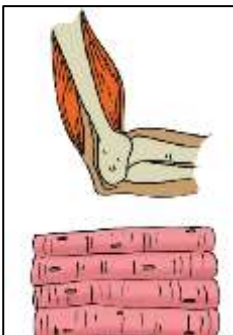
9. Hewan tersebut bergerak dengan organ

- a. Rangka tubuh
- b. Tulang punggung
- c. Kaki perut
- d. Sirip ekor



10. Tulang yang ditunjukkan oleh anak panah yaitu ...

- a. Tulang kering
- b. Tulang paha
- c. Tulang tempurung lutut
- d. Tulang betis



11. Berikut adalah gambar otot lurik, salah satu ciri otot lurik yaitu ...

- a. Melekat pada rangka/tulang
- b. Terletak pada organ dalam
- c. Terletak pada jantung
- d. Memiliki percabangan



12. Sikap duduk yang salah seperti pada gambar dapat menyebabkan kelainan tulang bernama ...



13. Kelainan tulang di samping disebut ...

14. Sebutkan 3 cara menjaga dan merawat otot pada manusia !

.....
.....
.....
.....
.....
.....
.....

IPS

3.1 Mengidentifikasi karakteristik geografis Indonesia sebagai negara kepulauan/maritim dan agraris serta pengaruhnya terhadap kehidupan ekonomi, sosial, budaya, komunikasi, serta transportasi.

15. Berikut pulau di Indonesia yang **tidak** termasuk kawasan persebaran flora jenis Indo-Australian yaitu ...

- a. Sulawesi
- b. Maluku
- c. Bali
- d. Nusa Tenggara

16. Fauna Indonesia Bagian Barat (Tipe Asiatis) persebarannya berada di wilayah berikut, **kecuali** ...

- a. Kalimantan
- b. Papua
- c. Jawa
- d. Sumatra

17. Jenis flora yang sangat banyak terdapat di kawasan Indonesia Bagian Barat jenis Indo-Malayan yaitu ...
- Rotan
 - Kayu putih
 - Meranti-merantian
 - Anggrek

18. Bandara Adisucipto terletak di provinsi ...
- Daerah Khusus Ibukota Jakarta
 - Jawa Timur
 - Banten
 - Daerah Istimewa Yogyakarta



19. Gambar di samping (gunung) termasuk contoh kenampakan ..



20. Gambar di samping (bendungan) termasuk contoh kenampakan ...

21. Sebutkan 3 contoh kenampakan alam !

.....

.....

.....

SBDP

3.1 Memahami gambar cerita



22. Gambar disamping merupakan contoh gambar cerita /ilustrasi corak ...

- Kartun
- Realis
- Dekoratif
- Karikatur

23. Berikut yang **bukan** merupakan media alas gambar yaitu ...

- a. Kanvas
- b. Krayon
- c. Kain
- d. Kertas



24. Gambar disamping merupakan contoh gambar cerita /ilustrasi

corak ...

- a. Kartun
- b. Realis
- c. Dekoratif
- d. Karikatur



25. Gambar disamping merupakan contoh gambar cerita/ilustrasi corak

...

- a. Kartun
- b. Realis
- c. Dekoratif
- d. Karikatur

26. Salah satu corak gambar cerita/ilustrasi yang menyajikan objek dengan karakter yang lucu dan aneh. dan biasanya mengandung kritikan dan sindiran disebut ...

27. Salah satu corak gambar cerita/ilustrasi yang disajikan dengan mengubah bentuk objek aslinya namun tanpa menghilangkan ciri-ciri khasnya disebut ...

28. Sebutkan 3 corak gambar cerita / ilustrasi !

.....

.....

.....