

Nama :
No. Induk :



**PEMERINTAH KABUPATEN GUNUNGKIDUL
DINAS PENDIDIKAN PEMUDA DAN OLAHRAGA
SDN KRAMBILSAWIT SAPTOSARI**

**PENILAIAN TENGAH SEMESTER GANJIL
TAHUN PELAJARAN 2021/2022**

Tema : 1 (Diriku) Hari, Tanggal : Senin, 04 Oktober 2021
Kelas : I (Satu) Waktu : 07.30 – 09.30

Petunjuk Umum:

- Jodohkanlah dengan milih jawaban yang benar!**
- Berilah tanda silang (x) pada huruf a, b, c yang dianggap benar!**
- Isilah titik-titik di bawah ini dengan jawaban yang benar!**

- | | |
|--|--------------|
| 1. sebelum belajar sebaiknya kita harus | a. 14 |
| 2. alat indra yang berguna untuk merasakan manis dan pahit adalah | b. lambat |
| 3. Hasil dari $8+6$ adalah | c. berdoa |
| 4. dua mata saya dinyanyikan dengan tempo... | d. pemanasan |
| 5. sebeleum berolahraga sebaiknya melakukan.... | e. lidah |

PKn

KD 3.2

1. gambar di bawah ini menunjukkan bahwa sebelum makan kita harus ...



- berkumur
- cuci tangan
- berdoa

KD 3.2

2. agar gigi kita bersih dan sehat, kita harus rajin ...
- mandi
 - keramas
 - menggosok gigi

KD 3.2

3. gambar di bawah ini menunjukkan bahwa sebelum berangkat ke sekolah, kita harus ... kepada orangtua.



- a. minta ijin
- b. minta uang saku
- c. marah

KD 3.2

4. setelah bermain tangan udin kotor. setelah bermain udin harus ...

a.



b.



c.



KD 3.3

5. perhatikan gambar di bawah ini. ayah dan udin berambut pendek. Ibu memakai kerudung. sita mempunyai rambut ...



- a. kusut
- b. panjang
- c. keriting

KD 3.2

6. saat masuk rumah kita harus mengucapkan ...

KD 3.2

7. supaya rambut kita bersih dan sehat, kita harus ...

KD 3.3

8.



lihatlah udin dan teman-teman.

ada banyak perbedaan diantara mereka.

tetapi mereka tetap berteman.

perbedaan itu rahmat ...

KD 3.2

9. sebutkan 3 tata tertib sebelum makan !

a.


b.

c.

Bahasa Indonesia

KD 3.4

10.



anggota tubuh tersebut di atas berfungsi untuk

a. mendengar

b. melihat

c. mencium bau

KD 3.4

11. anggota tubuh yang digunakan untuk berjalan adalah

a. tangan

b. mulut

c. kaki

KD 3.9

12. gambar di bawah ini menunjukkan mereka sedang ...



- a. berkenalan
- b. berkelahi
- c. bertengkar

KD 3.3

13. susunan kata di bawah ini yang tepat menjadi sebuah nama adalah ...

- a. Diun
- b. Nidu
- c. Udin



d i u n — □ □ □ □

KD 3.3

14. nama Siti berawalan dari huruf ...

- a. t
- b. s
- c. i



KD 3.1

15.



1

2

3

posisi duduk yang benar ditunjukkan oleh nomor ...

KD 3.2

16.



a



b

cara memegang pensil yang benar ditunjukkan huruf ...

KD 3.11

17. lagu di bawah ini mengungkapkan rasa sayang kepada ...

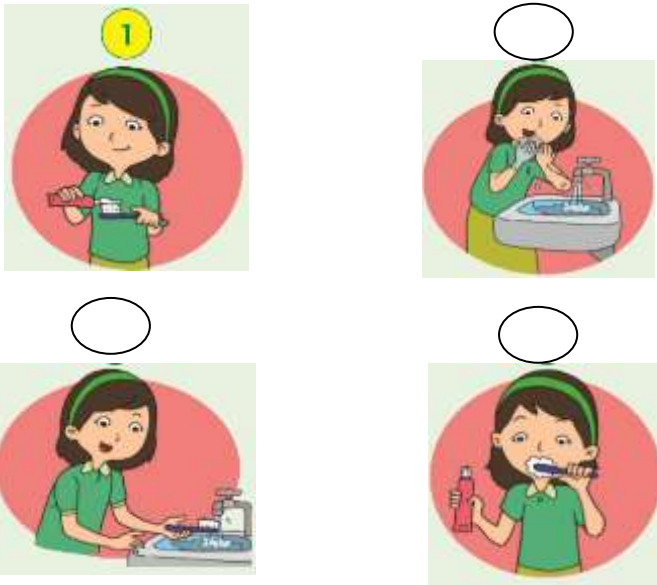
Sahabat Untuk Selamanya

Dua tiga kapal berlayar di samudera
Ayo sahabatku kita bergembira
Bermain bernyanyi bersama
Menikmati indahnya dunia
Sahabat...untuk selamanya
Bersama untuk selamanya
Kau dan aku sahabat
Untuk selamanya
Selama-lamanya....setia



KD 3.4

18. isilah gambar di bawah ini dengan angka yang sesuai urutan !



The sequence of illustrations shows the following steps: 1. The girl is holding a toothbrush and a tube of toothpaste. 2. She is brushing her teeth. 3. She is rinsing her mouth with water from a sink. 4. She is holding a bottle of mouthwash and drinking from it.


Matematika KD 3.1

19. angka 6 dibaca....

- a. sembilan
- b. enam
- c. empat

KD 3.2

20.



A**B****C**

anak yang berjumlah 4 terdapat pada. . . .

- a. gambar A
- b. gambar B
- c. gambar C

KD 3.3



4 sampo 4 sabun.

- a. lebih sedikit
- b. sama banyak
- c. lebih banyak

KD 3.4



hasil pengurangan dari gambar tersebut adalah. . . .

- a. $8 - 3 = 7$
- b. $8 - 3 = 6$
- c. $8 - 3 = 5$

KD 3.4

23. edo membeli 7 butir telur, 2 butir telur digoreng untuk lauk sarapan. Sisa telur Edo. . . . butir.

- a. 4
- b. 5
- c. 6

KD 3.2



jumlah anak pada gambar tersebut adalah. . . .

KD 3.3

25. Beni membandingkan dua bilangan



.... dari



KD 3.4

26. hasil dari $6 + 3 = \dots$

KD 3.4

27. Siti membeli 10 buah jeruk, diberikan kepada Lani 7 buah. Berapa sisa buah jeruk Siti sekarang?

Jawab :

SBDP KD 3.1

28.



cara melukis gambar tersebut, dengan cara celupkan jari ke dalam....

- a. air
- b. minyak
- c. cat

KD 3.4

29.



boneka tersebut terbuat dari kulit

- a. jagung
- b. ketela
- c. padi

KD 3.2

30. Dua mata saya
Hidung saya Satu
Satu mulut saya
Tidak berhenti makan
Dua tangan saya
Yang kiri dan kanan
Dua kaki saya pakai sepatu baru
Lagu tersebut berjudul....


KD3.3

31. gerakan tari tersebut sesuai dengan lagu....

- a. Dua mata saya
- b. Sipa namamu
- c. Kepala pundak lutut kaki



KD 3.4

32.  sebutkan 2 bahan yang diperlukan untuk membuat gantungan kunci !

Jawab:.....

PJOK KD 3.1

33.  Iani sedang

- a. berlari
- b. berjalan
- c. berlenggang

KD 3.4

34.



1



2



3

cara membaca yang paling benar adalah nomor....

KD 3.8

35. sebutkan 3 bagian depan tubuh yang tidak boleh disentuh!

Jawab:.....

